

به نام خدای مهربان
مهارت‌های یادگیری

می‌خواهم یاد بگیرم

۸

مهارت‌های ریاضی شناخت اعداد شمارش و ترتیب ا تا ۵

به کوشش فهیمه سیدناصری

ناشر پیشرو در انتشار کتاب‌های کمک آموزشی برای مهدکودک‌ها و پیش دبستانی‌ها

کتاب‌کار
گوزنی

چاپ ششم

واحدکودک ونوجوان
موسسه‌ی نشر و
تحقیقات ذکر

تهران، خ انقلاب، خ فلسطین جنوبی، خ محتشم، شماره ۲۰، طبقه
تلفن: ۶۶۴۱۰۰۴۱ (خط ۵) • تلفکس: ۶۶۴۶۸۲۶۳
کد پستی: ۱۳۱۵۸۵۳۴۹۳ • سامانه‌ی پیامکی: ۳۰۰۰۶۶۶۶۳
www.zekr.co • Email: zekr_publishery@yahoo.com

مهارت‌های ریاضی (شناخت اعداد، شمارش و ترتیب ۱ تا ۵)

مهارت‌های یادگیری (جلد ۸)

به کوشش فهیمه سیدناصری

مدیر هنری و اجرای جلد: حسین نیلچیان

صفحه‌آرایی: کارگاه گرافیک قاصدک (سیدمهدی مظلوم)

زیر نظر گروه برنامه‌ریزی آموزش‌های پیش‌دبستانی

موسسه نشر و تحقیقات ذکر

لیتوگرافی: گلپا • کد: ۹۲/۵۲۵

چاپ ششم: ۱۳۹۶ • تیراژ: ۵۰۰۰ جلد

شابک: ۹۷۸-۹۶۴-۳۰۷-۵۶۴-۴

شابک دوره: ۹۷۸-۹۶۴-۳۰۷-۵۶۹-۹

کلیه‌ی حقوق چاپ و نشر انحصاراً برای

ی نشر و تحقیقات ذکر محفوظ است.


سرشناسه	: سیدناصری، فهیمه، ۱۳۳۰-
عنوان و نام پدیدآور	: مهارت‌های ریاضی (شناخت اعداد، شمارش و ترتیب ۱ تا ۵) / فهیمه سیدناصری.
مشخصات نشر	: تهران: ذکر، کتاب‌های قاصدک.
مشخصات ظاهری	: ۲۴ ص: مصور.
فروست	: می‌خواهم یاد بگیرم، مهارت‌های یادگیری: ۸
شابک	: ۹۷۸-۹۶۴-۳۰۷-۵۶۹-۹ / دوره: ۹۷۸-۹۶۴-۳۰۷-۵۶۴-۴
وضعیت فهرست‌نویسی	: فیبا
یادداشت	: گروه سنی: الف.
موضوع	: آموزش قبل از مدرسه
موضوع	: شمارش
موضوع	: اعداد
رده‌بندی دیویی	: ۱۳۹۱ م‌رشی ۹۱۹ س ۳۷۲/۲۱
شماره کاتالوگ ملی	: ۳۰۲۵۷۷۱

دور هر دسته از حیوانات مثل هم را خط
بکشید.



پاسخ صحیح را علامت بگذارید.

پایان



کی از همه عقبتر است؟



خرس



خرگوش



گره

کی از همه جلوتر است؟



گره



سگ



موش




به تعداد شمع‌های روشن در چهارگوش چوب خط بکشید.

به تعداد شمع‌های خاموش در چهارگوش چوب خط بکشید.






به تعداد تصویرها روی تخته سیاه در چهارگوش چوب خط بکشید.

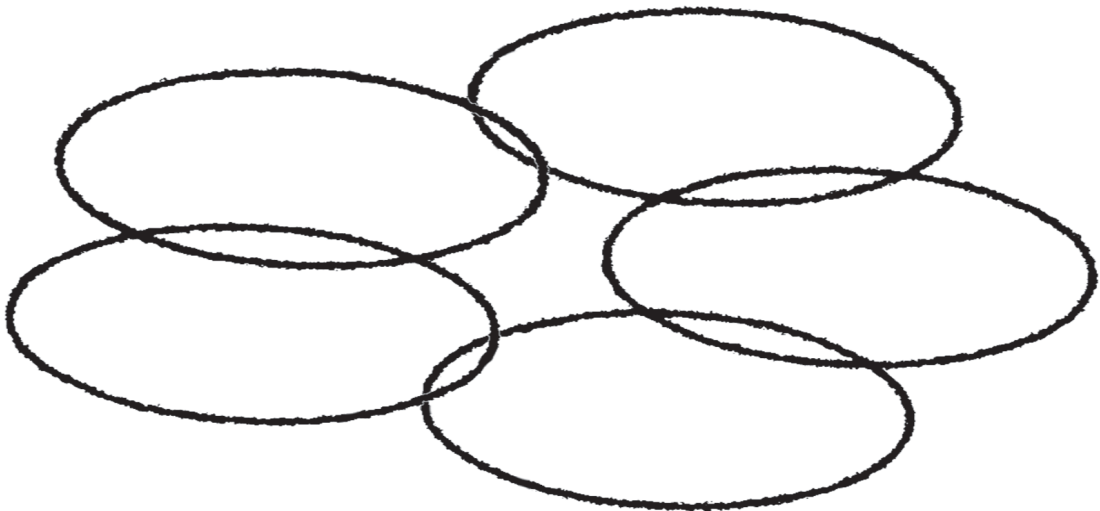
چند تا از این تصویرها میوه هستند؟ به تعداد آن‌ها در چهارگوش چوب خط بکشید.




چند سه‌گوش در این شکل می‌بینید؟ به تعداد آن‌ها در چهارگوش
چوب خط بکشید.


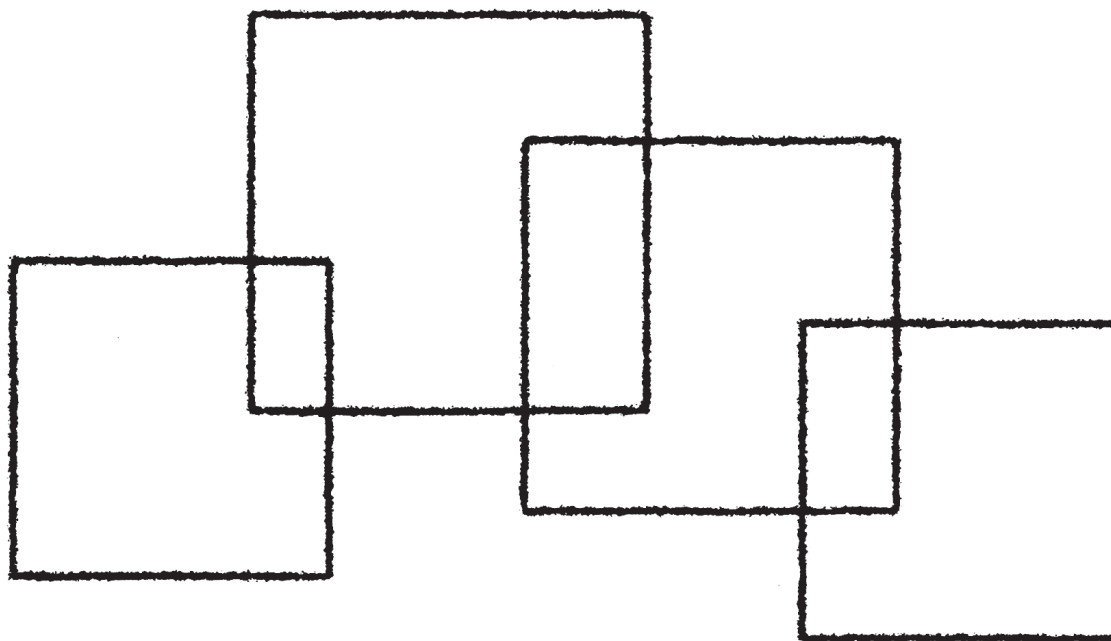


چند  در این شکل می‌بینید؟ به تعداد آن‌ها در چهارگوش
چوب خط بکشید.





چند چهارگوش در این شکل می‌بینید؟ به تعداد در
چهارگوش آن‌ها چوب خط بکشید.



چند گردی در این شکل می‌بینید؟ به تعداد آن‌ها در
چهارگوش چوب خط بکشید.

