



کتاب ۸
تخته سفید
(وایت برد)

با استفاده از ماژیک وایت برد

دوباره بنویس

تمرین ریاضی کلاس اول ۱

چاپ دوم

کتاب کار
گودزی

۴۷		۴۹	
	۷۰		
	۸۹		
۵۷			



به کوشش: فهیمه سیدناصری



در جاهای خالی عدد مناسب را بنویس.

$$9 - \square = 4$$

$$\square + 4 = 9$$

$$8 - \square = 3$$

$$\square + 3 = 8$$

$$8 - \square = 0$$

$$\square + 7 = 7$$

$$\square - 4 = 4$$

$$\square + 6 = 7$$

$$\square - 3 = 6$$

$$5 + \square = 5$$

$$\square - 2 = 6$$

$$5 + \square = 10$$

$$7 - \square = 3$$

$$4 + \square = 5$$

$$7 - \square = 1$$

$$7 + \square = 9$$



به حروف بنویس.

۳۰

۶۰

۴۰

۸۰

۵۰

۹۰

۱۰۰

۱۰



از ۴۵ تا ۵۵ بنویس.

۴۵ -

از ۶۷ تا ۷۷ بنویس.


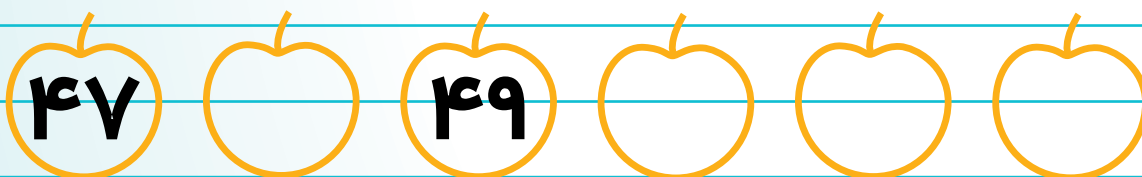
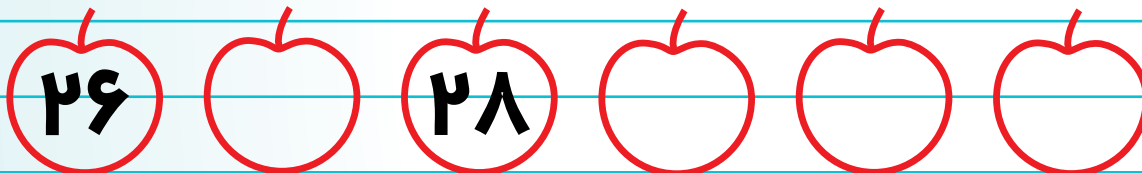
۶۷ -

از ۸۵ تا ۹۰ بنویس.

۸۵ -




در جاهای خالی عدد مناسب را بنویس.






علامت < = > بگذار.

۲۳




۳۲

۱۷




۷۱

۴۵




۵۴

۱۹



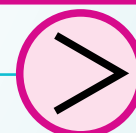
۲۰

۶۶



۶۵

...




۶۹

۳۰



۴۰

...




۲۱

۷۸



۸۷

...



...